


動筆畫畫看

撰文／吳欣庭

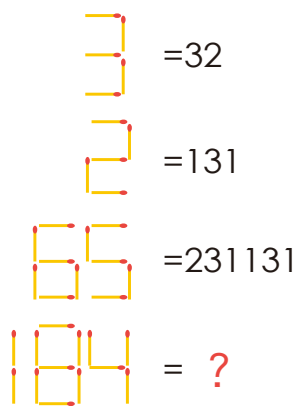
1

從圓的顏色與分布中找出規律，幫畫有「？」的圓圈塗上正確的顏色。



2


火柴代表了什麼意義呢？請找出規律，解開「？」代表的數字。



3

請找出正確的四色順序，按照這組顏色的規律通過格子，走出立體迷宮。

注意：路線不可交叉。




一起來挑戰!

撰文 / 吳欣庭

1

小蝸牛從桌子的正中央開始，以每秒兩公分的速度前進，前進的方式很規律，先往西前進 10 公分、往北 20 公分、往東 30 公分、往南 40 公分，再往西 50 公分……依此類推。桌子是邊長 120 公分的正方形桌，請問小蝸牛要花多少時間才能走到桌子的邊緣呢？



2

社區的團康活動有 65 個人參加，分成甲、乙、丙三個隊伍，大星也想參加，但必須加入人最少的那一隊。大星不知道三個隊伍各有多少人，只知道甲隊的人只能說實話，乙隊的人只能說謊話，丙隊的人交替說實話和謊話，但不會全隊一起說謊。大星問大家：「有誰是甲隊呢？」結果有 60 個人回答自己是甲隊；大星又問：「有誰是丙隊呢？」共有 42 個人說自己是丙隊；最後大星問：「有誰是乙隊呢？」這時，有 15 個人回答自己是乙隊。那麼，大星最後加入了哪一隊呢？

圖源：Shutterstock，Illustrac



3

十位學生一起去校外教學，每個人都戴了帽子和穿了背心。帽子和背心都有藍色和黃色兩種，其中戴黃帽的有六個人，穿黃背心的有五個人，帽子和背心顏色相同的共有七個人。你知道只有背心是藍色的人有幾個嗎？

