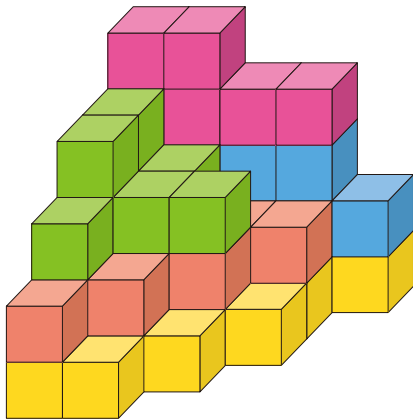



動動眼，動動腦

撰文／吳欣庭

1. 觀察右圖，你能解答下列算式所代表的字詞是什麼嗎？

算式：(● + ● + ●) + (● + ●)



2.

左圖的圖形由許多小立方體組成，仔細觀察，算算看至少還要補上多少個小立方體，才能組成完整的大立方體？

3. 觀察右圖這個停車場，要怎麼移車，才能讓警車順利開出去呢？車子只能在有空位的地方前後移動喔！



1. 這是一個平方迷宮，從星星出發，你能從 1 的平方、2 的平方……依序前進，把全部的格子走完，順利抵達終點嗎？路線可以斜著走，但不能重複走。

※ 數字的百位數、十位數與個位數位在不同格子。

4	0	1	4	4	→
9	1	0	2	1	
2	1	★	1	1	
5	6	4	4	1	
3	6	9	6	8	

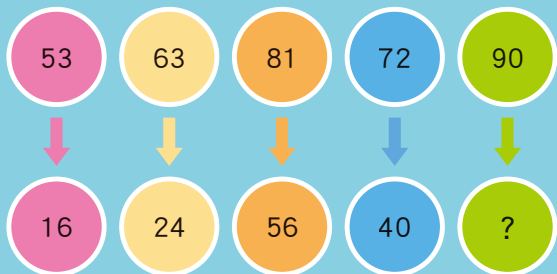
數字把戲

撰文／吳欣庭

2. 這個減法算式由 1~9 組成，每個數字都不重複出現。你能在方格中填上正確的數字嗎？

$$\begin{array}{r}
 8 \square \square \\
 - 54 \square \\
 \hline
 \square \square 1
 \end{array}$$

4. 找出數字之間的規律，寫出問號代表的數字。



3. 沙漏上半部相鄰的兩格數字相加會等於下面一格的數字，例如： $61 + 118 = 179$ ，而下半部相鄰的兩格數字相加會等於上面一格的數字。你能依照這個規律，算出 A 和 B 所代表的數字嗎？

