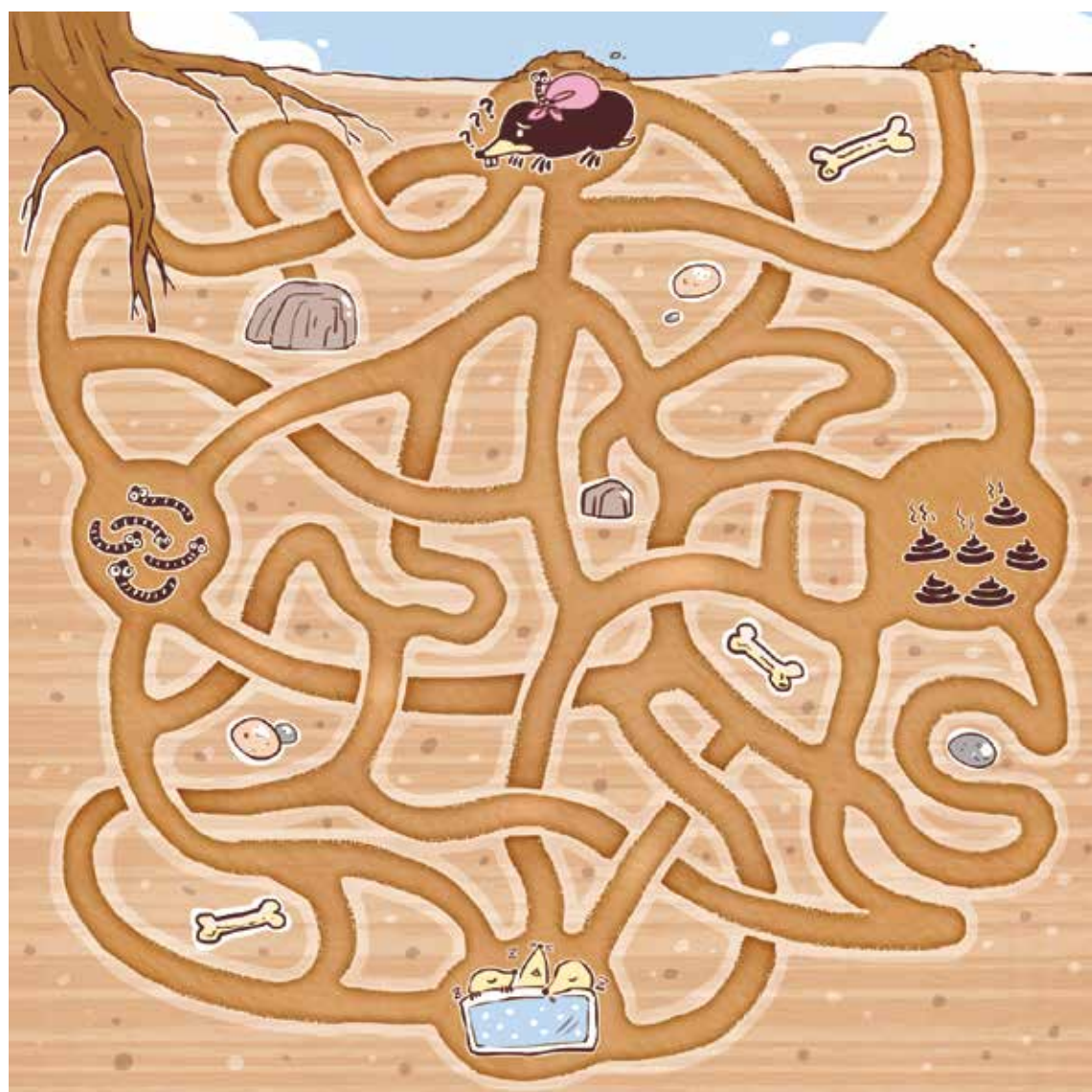
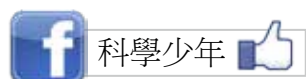


鼯鼠地道

鼯鼠媽媽抓到了一隻肥肥的蚯蚓，她想先把蚯蚓送到儲藏室裡，然後去上個廁所，最後再去看看她的寶寶，你能幫她找出一條路線不重複，距離又最短的路嗎？

答案請見《科學少年》下一期，或上《科學少年》粉絲團、官網 ys.ylib.com



繪圖：馮思芸

黑心天平

有一位奸詐的商人用二臂不等長之天平買賣貨物，賺黑心錢。購買貨物時，將其放置天臂較短那一側；銷售貨物時，將其放置天臂較長那一側。依上述手法，他向農民購買六袋葡萄和二箱鳳梨，其秤重為 25 公斤，到市場販賣時，六袋葡萄秤重 24 公斤，二箱鳳梨秤重 12 公斤。那麼，一箱鳳梨真實重量是多重？




誰是騙子？

在一場選舉中有七位候選人，他們如果不是只說實話的老實人，就是只說謊話的騙子。政見辯論會上所有候選人圍坐在一張圓桌前，且都聲稱他左右兩邊的兩位候選人中恰有一位是騙子。請問這七位候選人中有幾位是老實人？

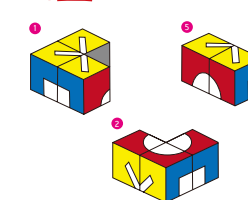
圖片來源：freedrik

第 23 期益智遊戲解答

A1



A2



A3

把二塊木板拿去秤重，比較重的就是面積比較大的。