


要走哪一條？

全家人準備要去購物，但是通往賣場的路線好複雜啊，可以幫忙指路嗎？



繪圖：馮思云

立方體變變變

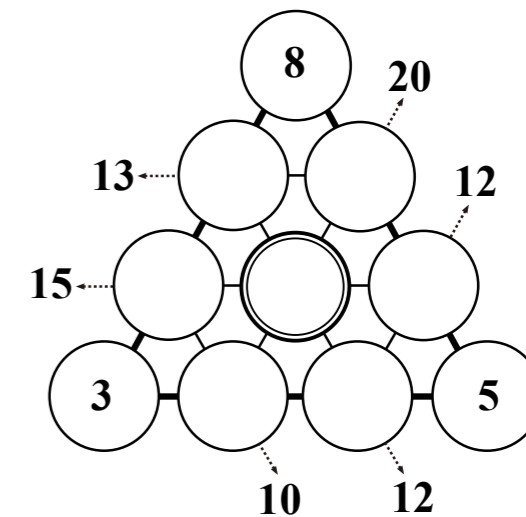


左圖是用 23 根火柴拼成的四個立方體圖形，如果想要讓它變成只有三個立方體，至少要移動幾根火柴呢？

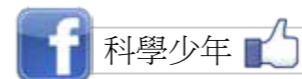
三角數獨

請在右圖的圓圈中填入 1~10 的數字，使它符合以下條件：

- 條件一：圓圈中的數字不得重複。
- 條件二：周圍箭頭所指的數字，剛好等於那個方向圓圈中數字的和。



答案請見《科學少年》官網 ys.ylib.com 或《科學少年》粉絲團



(本題出自株式会社 KS プロジェクト出版《三角パズル》，作者：鍵本聡)